



le 13 février – le 16 février



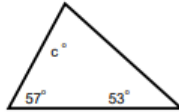
Directives: Copies les questions et répons-les sur une feuille mobile ou imprimer cette page et écris tes réponses là-dessus.

lundi

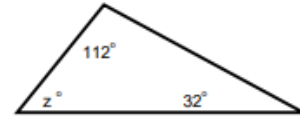
Résoudre :



$f = \underline{\hspace{2cm}}$



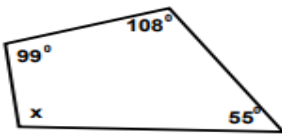
$c = \underline{\hspace{2cm}}$



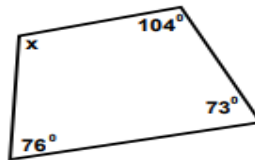
$z = \underline{\hspace{2cm}}$

mardi

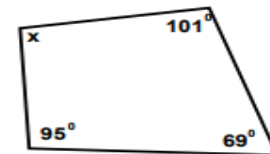
Résoudre :



$x = \underline{\hspace{2cm}}$



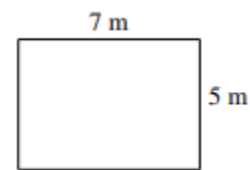
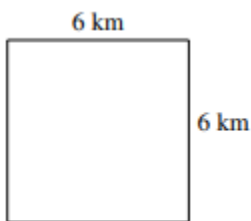
$x = \underline{\hspace{2cm}}$



$x = \underline{\hspace{2cm}}$

mercredi

Trouver le périmètre



jeudi

Trouver le périmètre :

